

JOUR 16 : ÉLECTRICIEN



👁️ Reporte les lettres correspondant aux symboles pour découvrir comment colorier le pixel art. Pour les chiffres, 1 = A, 2 = B, 3 = C...

1

📺 Regarde cette vidéo sur le métier d'électricien : <https://huit.re/metierelectricien>

👉 Quel diplôme a obtenu Stéphane ?

.....

👉 Qu'est ce qui plaît à Stéphane dans son métier ? ↑

- o) exprimer sa créativité r) parler plusieurs langues i) travailler à plusieurs
- a) travailler dehors u) le contact avec les clients j) les horaires de travail

👉 Selon Stéphane, quelles sont les qualités requises pour être électricien ?

.....

.....

2

👉 Dans tous ces mots, surligne ceux qui ne font pas référence à l'électricité.

compteur disjoncteur baleine circuit serpe voltmètre

résistance aiguillon binette interrupteur bobine phase

câble fréquence phrase conducteur ampère

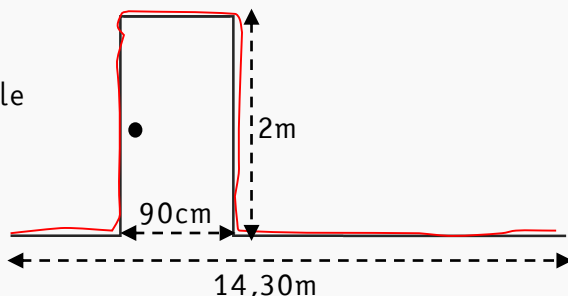
👉 Combien de mots intrus as-tu trouvés ?

3

👁️ Stéphane doit faire passer un câble dans une gaine le long de ce mur en passant au-dessus de la porte (le câble est tracé en rouge sur le schéma).

👉 Quelle longueur de câble est nécessaire ?

Il faut m de câble soit cm.



4

👁️ Stéphane doit investir dans un nouveau voltmètre.

👉 Combien coûte le voltmètre r ? €

👉 Combien coûte le voltmètre o ? €

👉 Quel est le moins cher ?

Le voltmètre est le moins cher.

voltmètre r



55,90€

voltmètre o



71,40€

COLORIE EN

LES CASES : G2, H2, I2, J2, E3, F3, G3, H3, I3, J3, K3, L3, D4, E4, F4, G4, H4, I4, J4, K4, L4, M4, D5, E5, F5, G5, H5, I5, J5, K5, L5, M5, C6, F6, G6, H6, I6, J6, K6, N6, C9, N9, D10, E10, L10, M10, D11, E11, F11, K11, L11, M11, E12, F12, G12, J12, K12, L12, E13, F13, G13, H13, I13, J13, K13, L13, E14, F14, G14, H14, I14, J14, K14, L14, E15, F15, G15, H15, I15, J15, K15, L15, E16, F16, G16, H16, I16, J16, K16, L16, E17, F17, G17, J17, K17, L17, G21, H21, I21, J21, H22, I22

JOUR 17 : ESTHÉTIICIEN



👁️ Reporte les lettres correspondant aux symboles pour découvrir comment colorier le pixel art. Pour les chiffres, 1 = A, 2 = B, 3 = C...

1

📺 Regarde cette vidéo sur le métier d'esthéticien : <https://huit.re/estheticien>

👂 Quelles sont les qualités requises de ce métier ?

.....

.....

👉 Quel est l'un des **inconvénients** du métier d'esthéticien ?

- rester debout travailler le week-end travailler dans le bruit
- commencer tôt travailler dehors travailler tard le soir

👂 Où un esthéticien peut-il travailler ?

.....

.....

👂 Quelles sont les **évolutions possibles** au métier d'esthéticien ?

.....

.....

2

👁️ Voici les tarifs d'épilation d'un institut.

👂 Qui va payer le plus cher pour une épilation des bras ? ✂

- n) un homme r) une femme

👂 Un homme souhaite réaliser une épilation du **bras**.

Combien va-t-il payer ? €

👂 Une homme souhaite réaliser une épilation des **jambes complètes** et du **torse**.

Combien va-t-il payer ? €

👂 Une femme souhaite réaliser une épilation des **jambes complètes**, des **aisselles** et du **maillot échancré**.

Combien va-t-elle payer ? €

👂 Une femme a un chèque cadeau de 20€. Elle souhaite réaliser une épilation des **cuisse**s et du **maillot simple**.

Combien lui reste-t-il à payer ? €

👂 Un client habitué bénéficie d'une réduction de 20% sur l'épilation des **bras**.

Combien lui reste-t-il à payer ? , €

Pour Elle

Sourcils ou Lèvres	9€
Sourcils + Lèvres	17€
Visage complet	20€
Aisselles	10€
Maillot simple	12€
Maillot échancré	18€
Maillot semi ou intégral	24€
1/2 Jambes	17€
Cuisses	18€
Jambes complètes	26€
Avant-bras	12€
Bras	16€

Forfaits femmes

1/2 Jambes + aisselles + maillot*	34€
Jambes complètes + aisselles + maillot*	43€

* + 9€ si maillot échancré, semi ou intégral

Pour Lui

Sourcils	10€
Aisselles	12€
Dos ou torse	22€
Dos + épaules	26€
Bras	21€
Jambes complètes	28€

Forfaits hommes

Dos + torse	39€
Jambes complètes + dos ou torse	45€

COLORIE EN



LES CASES : D13, D14, M13, M14

JOUR 18 : FLEURISTE



👁 Reporte les lettres correspondant aux symboles pour découvrir comment colorier le pixel art. Pour les chiffres, 1 = A, 2 = B, 3 = C...

1

📺 Regarde cette vidéo sur le métier de fleuriste : <https://huit.re/fleuriste>

👉 Comment Frédéric a-t-il été amené à exercer ce métier ?

.....

👉 Quels diplômes Frédéric a-t-il obtenus ?

.....

👉 Quelles sont les activités d'un fleuriste ?

.....

.....

👉 Qu'est-ce qui plaît le plus à Frédéric dans son métier ?

être son propre patron créer des compositions s'occuper des plantes

👉 Quelles sont les compétences nécessaires pour être fleuriste ?

.....

.....

2

👁 En stage dans une jardinerie, tu dois classer des plantes dans différents rayons.

👉 Écris chaque espèce de plante dans la bonne colonne : camélia, ciboulette, palmier, jacinthe, azalée, olivier, bégonia, lavande, lilas, basilic, bambou, sauge

Arbres et arbustes	Plantes aromatiques	Plantes méditerranéennes	Plantes fleuries

3

👁 Frédéric réalise des bouquets dans lesquels il souhaite mettre 7 roses et 5 pivoines. Il a reçu 147 roses et 105 pivoines.

👉 Combien y a-t-il de fleurs dans un bouquet ?

👉 Combien a-t-il reçu de fleurs en tout ?

👉 Combien pourra-t-il effectuer de bouquets ?




COLORIE EN



LES CASES : D13, D14, M13, M14

JOUR 19 : HORTICULTEUR



👁️ Reporte les lettres correspondant aux symboles pour découvrir comment colorier le pixel art. Pour les chiffres, 1 = A, 2 = B, 3 = C...

1

📺 Regarde cette vidéo sur le métier d'horticulteur : <https://huit.re/horticulteur>

🗣️ En quoi consiste le métier d'ouvrier horticole ?

.....

.....

👉 Selon Jérémie, quelles sont les **qualités nécessaires** pour exercer le métier d'horticulteur ?

être doux parler plusieurs langues être souriant être artiste

être rigoureux être musclé avoir le sens de l'anticipation

🗣️ Pourquoi Jérémie dit-il qu'il a encore beaucoup de choses à apprendre ?

.....

.....

2

👁️ Observe le schéma de cette plante et **légende-le**.

--	--	--	--

--	--	--	--	--	--	--	--

--	--	--	--	--	--	--	--	--	--	--	--

--	--	--	--	--

--	--	--	--	--	--

3

👁️ Jérémie vend des plants de géranium par barquette de 12. Il a **156 plants** à vendre.

🗣️ Combien de barquettes va-t-il réaliser ?

Il va remplir barquettes.



--	--	--	--	--	--	--	--

COLORIE EN LES CASES : A18, B18, D18, H18, I18, M18, O18, P18, A19, B19, C19, D19, E19, F19, G19, H19, I19, J19, K19, L19, M19, N19, O19, P19, A20, B20, C20, D20, E20, F20, G20, H20, I20, J20, K20, L20, M20, N20, O20, P20

JOUR 20 : MAÇON



👁️ Reporte les lettres correspondant aux symboles pour découvrir comment colorier le pixel art. Pour les chiffres, 1 = A, 2 = B, 3 = C...

1

📺 Regarde cette vidéo sur le métier de maçon : <https://huit.re/macon>

🗣️ À quoi sert un chef d'équipe ?

.....

.....

👉 Comment Nicolas a-t-il découvert ce métier ?

- a) en visitant un lycée professionnel e) lors d'un stage i) chez son oncle
- o) en travaillant sur un chantier en job d'été u) dans l'atelier bâtiment de son collègue

🗣️ Pourquoi faut-il rester sérieux sur le chantier ?

.....

.....

2

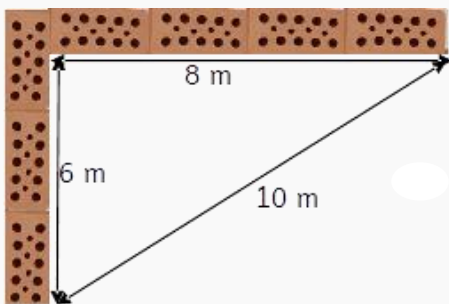
🗣️ Complète avec « ç », « c », « o » ou « ou ».

Nous fai.....ons appel à un ma.....on pouron.....evoir la nouvelle fa.....ade de notre mai.....on.
 En effet, nous avions des soup.....ons et nous nousommes aper.....us que l'an.....ienne avait
 moi.....i. L'eau tran.....per.....ait la doi.....on, la porte grin.....ait etaentait très mauvais ! Il
 devait y avoir une malfa.....on. Grâ.....e aux travaux de ma.....onnerie, nous avons pu faire
 per.....er une petite fenêtre au-de.....us de notre porte. Les travaux sont réu.....is et nous en
 sommes ravis !

🗣️ Combien de fois as-tu utilisé le ç ?

3

👁️ Pour vérifier que les murs sont construits à angle droit, les maçons utilisent souvent la réciproque du théorème de Pythagore. Rappel : un nombre « au carré » = le nombre x le nombre



Exemple : $4^2 = 4 \times 4 = 16$

- D'une part, $6^2 + 8^2 = \dots \times \dots + \dots \times \dots = \dots$
- D'autre part, $10^2 = \dots \times \dots = \dots$

Trouves-tu le même résultat ? Si oui, les murs sont à angle droit !

👉 Les murs sont-ils à angle droit ? n) oui m) non

COLORIE EN LES CASES : G1, H1, I1, J1, E2, F2, K2, L2, D3, M3, C4, N4, C5, N5, B6, O6, B7, G7, H7, I7, J7, O7, B8, E8, G8, H8, I8, J8, L8, O8, B9, G9, H9, I9, J9, O9, C10, G10, H10, I10, J10, N10, C11, G11, H11, I11, J11, N11, D12, H12, I12, M12, C13, N13, B14, O14, B15, O15, B16, O16, B17, D17, H17, I17, M17, O17, C18, E18, F18, G18, J18, K18, L18, N18, F21, K21, G22, J22, H23, I23