



👁️ Reporte les lettres correspondant aux symboles pour découvrir la citation. Pour les chiffres, 1 = A, 2 = B, 3 = C...

1

👉 Complète ces mots avec le bon préfixe pour écrire le contraire.

mobile coller obéir honnête légal correct

2

👉 Complète la phrase avec **ver**, **verre**, **vers** ou **vert**.

midi, j'ai bu un sirop dans mon préféré.

3

👉 Indique la phrase est conjuguée au **présent (P)**, à **l'imparfait (I)** ou au **futur (F)**.

Adèle verra son chien lundi.

Nous allons au lycée.

La pluie tombait depuis plusieurs jours.

Nous ferons de notre mieux.

Elle marque un but de la tête.

Le poney dort.

4

👉 Écris le résultat des ces **multiplications**.

$4 \times 7 = \square \square$

$6 \times 8 = \square \square$

$3 \times 9 = \square \square$

$4 \times 5 = \square \square$

$5 \times 9 = \square \square$

$6 \times 6 = \square \square$

$6 \times 3 = \square \square$

$7 \times 7 = \square \square$

$4 \times 4 = \square \square$

$9 \times 4 = \square \square$

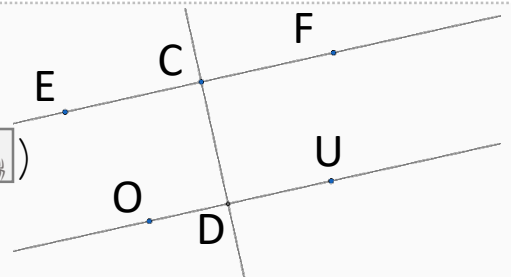
$7 \times 8 = \square \square$

$7 \times 5 = \square \square$

5

👉 Complète cette phrase en observant la figure.

La droite (EF) est parallèle à la droite ()



6

👉 Dans un restaurant, 4 tables de 5 sont remplies, 3 tables de 2 et 2 tables de 4.

Combien y a-t-il de clients dans le restaurant ?

7



👉 À quel pays appartient ce **drapeau** ?

8

👉 Qui est ce **personnage historique** ?



Citation du jour :

La chose d'avance à

l', c'est celle que l'on ne pas. P.E Victor



👁️ Reporte les lettres correspondant aux symboles pour découvrir la citation. Pour les chiffres, 1 = A, 2 = B, 3 = C...

1

👉 Réécris les mots de la phrase **dans l'ordre** pour qu'elle ait un **sens**.

seras - tu - grande - nouvelle - courant - au - cette - de

					⬇️					⬆️									
																			●

2

👉 Complète cette phrase avec les bonnes terminaisons : **ons** et **ent**.

Mon ami et moi jou

☆		
---	--	--

 souvent avec des camarades qui habit

☹️		
----	--	--

 dans le village.

3

👉 J'ai acheté une robe à 32€, un T-shirt à 8,40€ et un pantalon à 27,90€.

Combien ai-je dépensé ?

--	--

,

x

--	--

 €

4

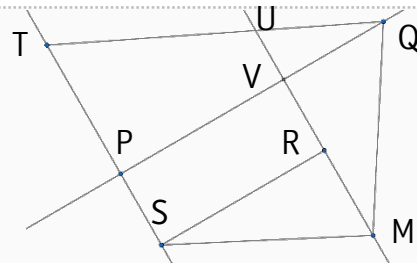
👉 Complète cette **suite logique** : 47 - 51 - 55 -

--

--

5

👉 Complète la phrase (nomme la figure de gauche à droite dans le sens des aiguilles d'une montre).



--	--	--	--

 est un **rectangle**.

6

👉 Écris le nom de ces **couleurs** en **anglais**.

bleu ➡

	⊗		
--	---	--	--

 rose ➡

👤		👁️	
---	--	----	--

 vert ➡

👁️		👤		
----	--	---	--	--

 jaune ➡

👤	🔑				
---	---	--	--	--	--

7

👉 Comment s'appelle cet **océan** ?

👁️										👁️	👁️
----	--	--	--	--	--	--	--	--	--	----	----



8

👉 Comment s'appelle ce type de **bâtiment religieux** ?

une

✈️	☾					😊
----	---	--	--	--	--	---



Citation du jour : Un

⚡	☾	🕸️	👁️	👁️		
---	---	----	----	----	--	--

 de mille

⊗	👁️	👁️	👁️	😊	❄️
---	----	----	----	---	----

x	☆	✈️	✈️	🔑	👁️	⬆️
---	---	----	----	---	----	----

 par un

👤	👁️	❄️
---	----	----


 !

Lao Tseu



1

Remets ces lettres dans l'ordre pour trouver un nom de **métier**.



- 1- Il tourne les films.
- 2- Il défend un prévenu ou une victime.
- 3- Personne procédant aux soins de la chevelure
- 4- Il travaille le métal.
- 5- Il prépare des plats.
- 6- Il transporte des marchandises.

2

Complète cette **opération à trous** en plaçant les chiffres **1, 4 et 5** au bon endroit.

Attention à la priorité des opérations : pour t'aider <https://huit.re/priorite>

$$8 + \square - \square \times \square = 9$$

3

Range ces nombres décimaux dans l'ordre **croissant** (du plus petit au plus grand).

1,05 - 0,80 - 1,9 - 1,250 - 2,5 - 1,50 - 0,250



4

Traduis le nom de ces **animaux** en français.

pig →

bear →

fish →

dog →

5



Quel **pays** est représenté par ce drapeau ?



6

Comment s'appelle la **religion** des **musulmans** ? l'




Citation du jour :

Le seul où le succès précède le c'est dans le . Donald Kendall



👁️ Reporte les lettres correspondant aux symboles pour découvrir la citation. Pour les chiffres, 1 = A, 2 = B, 3 = C...


1 🗣️ Arthur pose une nappe sur l'herbe, sort des sandwiches et un paquet de chips.
Que s'apprête-t-il à faire ? un 

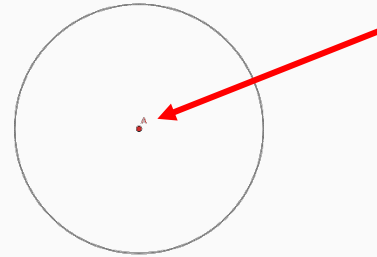
2 🗣️ Réécris cette phrase au futur. ➡️ Ils attendent le car. Aide : <http://huit.re/aidefutur>
 


3 🗣️ Remets ces lettres dans l'ordre pour trouver un synonyme du verbe « aimer ».
É - I - H - C - R - R ▶ 

4 🗣️ Complète ces opérations à trous.

$\begin{array}{r} 3 \square 1 \\ + \square 5 \square \\ \hline 7 3 9 \end{array}$	$\begin{array}{r} 9 \square 0 \\ + \square 2 \square \\ \hline 1 8 1 8 \end{array}$	$\begin{array}{r} 7 \square 8 \\ - \square 3 \square \\ \hline 3 6 2 \end{array}$	$\begin{array}{r} \square 4 \square \\ - \square 7 8 \\ \hline 1 \square 2 \end{array}$	$\begin{array}{r} 3 6 4 \\ + \square \square \square \\ \hline 8 3 5 \end{array}$
---	---	---	---	---

5 🗣️ Comment appelle-t-on ce point dans un cercle ?
Le 





6 🗣️ J'ai commencé à regarder un film à 20h30. Le film dure 1h40.
À quelle heure va-t-il se terminer ?  h

7  🗣️ Comment s'appelle cet océan ?

8 🗣️ Comment s'appelle ce personnage ?
  



Citation du jour : Si vous         

le           

Walt Disney



👁️ Reporte les lettres correspondant aux symboles pour découvrir la citation. Pour les chiffres, 1 = A, 2 = B, 3 = C...

1 🗣️ Classe ces mots dans l'ordre alphabétique : poil - pain - page - port - mule

2 🗣️ Conjugue le verbe parler à l'imparfait. Aide : <https://huit.re/aideimparfait>

je
 tu
 il/elle
 nous
 vous
 ils/elles

3 🗣️ Complète cette grille de sudokus.

Chaque ligne, chaque colonne et chaque case rectangulaire doivent comprendre chaque chiffre de 1 à 6 (une seule fois).

<input type="text"/>	<input type="text"/>	3	<input type="text"/>	1	<input type="text"/>
5	6	<input type="text"/>	3	2	<input type="text"/>
<input type="text"/>	5	4	2	<input type="text"/>	3
2	<input type="text"/>	6	4	5	<input type="text"/>
<input type="text"/>	1	2	<input type="text"/>	4	5
<input type="text"/>	4	<input type="text"/>	1	<input type="text"/>	<input type="text"/>

4 🗣️ Écris ces fractions en chiffres.

un tiers $\frac{\text{$ }{ $\text{$ }
 cinq dix-septièmes $\frac{\text{$ }{ $\text{$ }
 trois demis $\frac{\text{$ }{ $\text{$ }
 douze quarts $\frac{\text{$ }{ $\text{$ }

5 🗣️ Écris ces chiffres en anglais.

7 ➡️
 9 ➡️
 2 ➡️
 8 ➡️

6 🗣️ Comment s'appelle ce continent ?



l'

7 🗣️ Comment s'appelle la longue guerre du Moyen Âge entre les Anglais et les Français ?



la guerre de



👁️ Reporte les lettres correspondant aux symboles pour découvrir la citation. Pour les chiffres, 1 = A, 2 = B, 3 = C...

1 🗣️ Luc met dans un bol de l'huile, du vinaigre et de la moutarde. Que prépare-t-il ?

de la

2 🗣️ Pour chaque mot, écris s'il s'agit d'un nom (N), d'un déterminant (D), d'un adjectif (A) ou d'un verbe (V). Ce bouquet de fleurs roses sent vraiment bon.

3 🗣️ Réécris cette phrase à l'imparfait. ➡ Tu joues au golf. Aide : <http://huit.re/aideimparfait>

4 🗣️ Écris le résultat des ces multiplications.

$9 \times 7 = \text{$

$8 \times 8 = \text{$

$9 \times 9 = \text{$

$4 \times 4 = \text{$

$5 \times 6 = \text{$

$9 \times 6 = \text{$

$6 \times 7 = \text{$

$3 \times 7 = \text{$


$4 \times 8 = \text{$

$7 \times 4 = \text{$

$9 \times 8 = \text{$

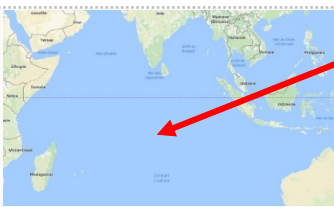
$5 \times 5 = \text{$

5 🗣️ Comment appelle-t-on cette droite (d) ? une



6 🗣️ Dans une ferme, il y a 5 canards, 3 chèvres, 8 moutons et 4 dindons. Combien cela fait-il de pattes en tout ?

7 🗣️ Comment s'appelle cet océan ?



8 🗣️ Dans quelle ville Jeanne d'Arc a-t-elle été brûlée ?



à

Ce que d' ont , on peut

le réussir. Antoine de Saint Exupéry